



バラエティ問題

名前

【1】

の中に、適切な数字を書きなさい。

① 「四十一万二十五」は、数字では

と表すことができる。

② 「36742」は、漢数字では

と表すことができる。

③ A市の人口は4月1日時点で、231805人です。

百の位を四捨五入した概数で表すと

人となります。

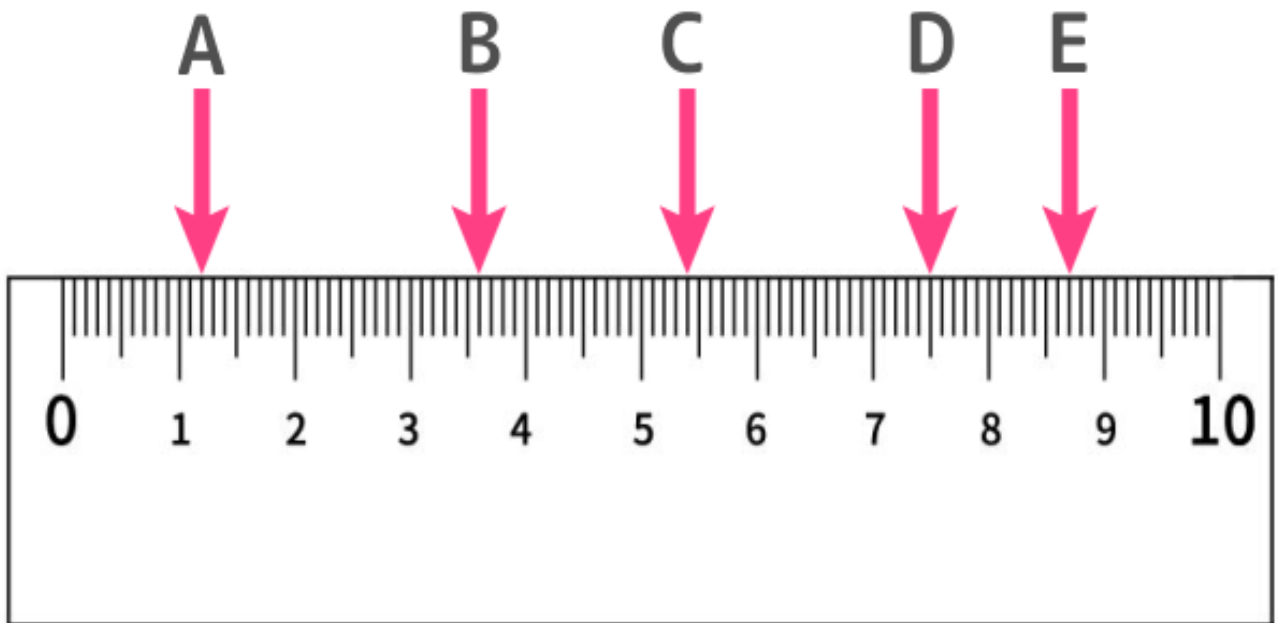
④ 1250gの砂糖を4等分すると、1つあたりの重さは

gです。

小数点第一位を四捨五入した概数で表すと

gとなります。

⑤ 下記は、10cm 定規です。



Aは、 cm mmの目盛りを指しています。

Bは、 cm mmの目盛りを指しています。

Cは、 cm mmの目盛りを指しています。

Dは、 cm mmの目盛りを指しています。

Eは、 cm mmの目盛りを指しています。

AからBまでの長さは、 cm mmです。

AからEまでの長さは、 cm mmです。

したがって、AからEまでの長さは、AからBまでの長さよりも、

cm mm長いです。

【2】 次の問題に答えなさい。

① はかりの指している重さを答えなさい。



g



g

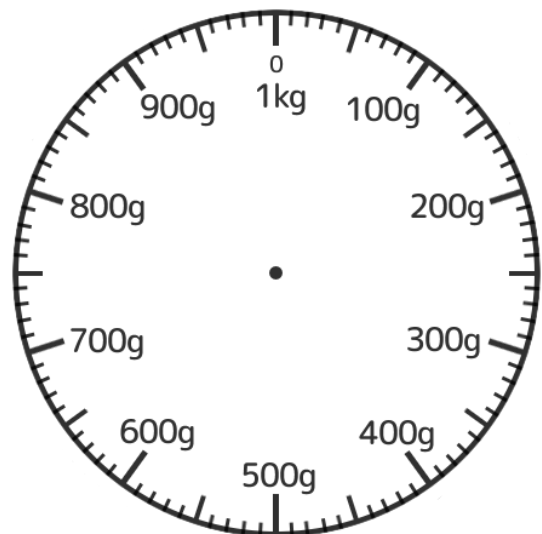
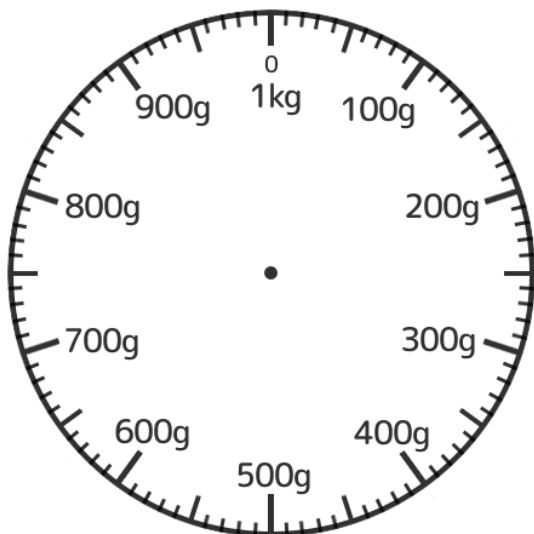


g



g

② 次の重さを矢印(↑)で書きなさい。



③ 重さ 120gの箱にりんごを入れて測ったら、750gでした。

りんごの重さは gです。

